


# Квиз «В мире безопасности»



**Давайте  
ПОЗНАКОМИМСЯ**



# Название и девиз команды

**Раунг №1**

**«Один верный»**

# «Один верный»

Вопрос № 1

Являются ли  
тротуары и  
обочины частью  
дороги?

- А) Являются только  
обочины
- Б) Являются
- В) Не являются
- Г) Являются только  
тротуары



# «Один верный»

Вопрос № 2

Укажите, где пешеходы  
могут двигаться по всей  
ширине проезжей части?

- А) В жилой зоне
- Б) Вдоль автомагистрали
- В) По велосипедной  
дорожке при наличии  
тротуара



# «Один верный»

Вопрос № 3

Регламентируется ли  
передвижение  
гироскутеров и  
электросамокатов  
Правилами дорожного  
движения?

- А) Да
- Б) Нет





# «Один верный»

Вопрос № 4

**Выберите те действия, которые пешеходу необходимо выполнить, прежде чем начинать переход по нерегулируемому пешеходному переходу дороги с двусторонним движением**

- А) Остановиться не менее чем в 1 метре от пешеходного перехода, убедиться в отсутствии приближающихся транспортных средств с правой стороны
- Б) Убедиться в том, что другие пешеходы начинают движение, и в том, что водители начали замедляться
- В) Остановиться у края проезжей части, убедиться в отсутствии приближающихся транспортных средств и в безопасности перехода



# «Один верный»

Вопрос № 5

Определите действия пешехода в случае, если при переключении пешеходного светофора на желтый сигнал он не успел дойти до середины проезжей части:

А) Вернуться обратно на тротуар

Б) Дойти до линии, разделяющей транспортные потоки противоположных направлений, и ожидать там зеленого сигнала пешеходного светофора

В) Продолжить переход проезжей части, так как пешеход имеет преимущество в движении



# «Один верный»

Вопрос № 6

Укажите, как должен двигаться пешеход по проезжей части вне населенного пункта

- А) Идти попутно движению транспортных средств, дальше от проезжей части
- Б) По обочине, навстречу движущемуся транспорту
- В) Идти там, где наиболее удобно и безопасно



# «Один верный»

Вопрос № 7

Укажите, что следует сделать велосипедисту в возрасте старше 14 лет перед выездом на проезжую часть дороги, чтобы обеспечить свою безопасность?

- А) Проверить техническое состояние велосипеда, наличие световозвращающих элементов и надеть шлем
- Б) Проверить и в пути обеспечить исправное техническое состояние велосипеда
- В) Проверить наличие инструментов для ремонта и гарантийного талона на транспортное средство



# «Один верный»

Вопрос № 8

Укажите, какой сигнал  
регулирущика запрещает  
движение пешеходам

- А) Рука поднята вверх
- Б) Две руки подняты вверх
- В) Одна рука поднята вверх,  
вторая указывает в сторону



# «Один верный»

Вопрос № 9

С какого расстояния пешеход со световозвращающим элементом заметен для водителя:

- А) 5-10 метров
- Б) 30-40 метров
- В) 150-200 метров



# «Один верный»

Вопрос № 10

**Разрешается ли буксировка велосипедов и мопедов?**

- А) Разрешается
- Б) Запрещается
- В) Запрещается, кроме буксировки прицепа, предназначенного для эксплуатации с велосипедом или мопедом
- Г) Запрещается всегда



**30**



**Сдаем бланки**

**Время ответов**

# «Один верный»

Вопрос № 1

Являются ли  
тротуары и  
обочины частью  
дороги?

- А) Являются только  
обочины
- Б) Являются**
- В) Не являются
- Г) Являются только  
тротуары

# «Один верный»

Вопрос № 2

Укажите, где пешеходы могут двигаться по всей ширине проезжей части?

- А) В жилой зоне
- Б) Вдоль автомагистрали
- В) По велосипедной дорожке при наличии тротуара

# «Один верный»

Вопрос № 3

Регламентируется ли  
передвижение  
гироскутеров и  
электросамокатов  
Правилами дорожного  
движения?

А) Да

Б) Нет

# «Один верный»

Вопрос № 4

**Выберите те действия, которые пешеходу необходимо выполнить, прежде чем начинать переход по нерегулируемому пешеходному переходу дороги с двусторонним движением**

А) Остановиться не менее чем в 1 метре от пешеходного перехода, убедиться в отсутствии приближающихся транспортных средств с правой стороны

Б) Убедиться в том, что другие пешеходы начинают движение, и в том, что водители начали замедляться

**В) Остановиться у края проезжей части, убедиться в отсутствии приближающихся транспортных средств и в безопасности перехода**

# «Один верный»

## Вопрос № 5

Определите действия пешехода в случае, если при переключении пешеходного светофора на желтый сигнал он не успел дойти до середины проезжей части:

А) Вернуться обратно на тротуар

Б) Дойти до линии, разделяющей транспортные потоки противоположных направлений, и ожидать там зеленого сигнала пешеходного светофора

В) Продолжить переход проезжей части, так как пешеход имеет преимущество в движении

# «Один верный»

Вопрос № 6

**Укажите, как должен двигаться пешеход по проезжей части вне населенного пункта**

А) Идти попутно движению транспортных средств, дальше от проезжей части

**Б) По обочине, навстречу движущемуся транспорту**

В) Идти там, где наиболее удобно и безопасно



# «Один верный»

Вопрос № 7

Укажите, что следует сделать велосипедисту в возрасте старше 14 лет перед выездом на проезжую часть дороги, чтобы обеспечить свою безопасность?

А) Проверить техническое состояние велосипеда, наличие световозвращающих элементов и надеть шлем

Б) Проверить и в пути обеспечить исправное техническое состояние велосипеда

В) Проверить наличие инструментов для ремонта и гарантийного талона на транспортное средство

# «Один верный»

Вопрос № 8

Укажите, какой сигнал  
регулирущика запрещает  
движение пешеходам

А) Рука поднята вверх

Б) Две руки подняты вверх

В) Одна рука поднята вверх,  
вторая указывает в сторону

# «Один верный»

Вопрос № 9

С какого расстояния пешеход со световозвращающим элементом заметен для водителя:

- А) 5-10 метров
- Б) 30-40 метров
- В) 150-200 метров**

# «Один верный»

Вопрос № 10

**Разрешается ли буксировка велосипедов и мопедов?**

А) Разрешается

Б) Запрещается

В) Запрещается, кроме буксировки прицепа, предназначенного для эксплуатации с велосипедом или мопедом

Г) Запрещается всегда

**Раунг №2**

**«Ребусы»**


# «Ребусы»

Вопрос № 1



# «Ребусы»

Вопрос № 2





4,1,2,3



# «Ребусы»

Вопрос № 3






# «Ребусы»

Вопрос № 4

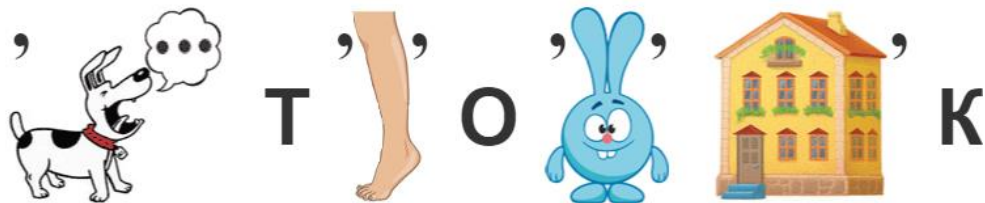
Е  
л

О



# «Ребусы»

Вопрос № 5



# «Ребусы»

Вопрос № 6



~~5~~ КРЕ



~~4~~ К



# «Ребусы»

Вопрос № 7



ПА = Г



1 = ОВ



# «Ребусы»

Вопрос № 8



Д+Т



30

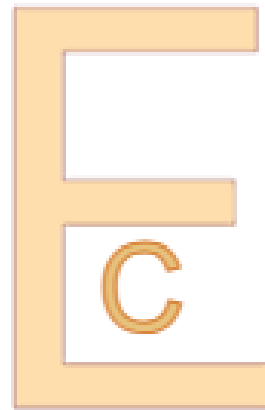
**Сдаем бланки**

**Время ответов**



# «Ребусы»

Вопрос № 1




П = Ф

Ответ: Светофор

# «Ребусы»

Вопрос № 2





4,1,2,3

Ответ: Пассажир

# «Ребусы»

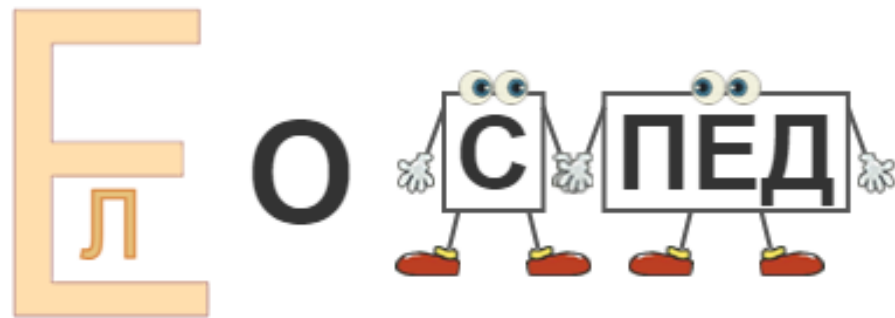
Вопрос № 3



Ответ: Тротуар

# «Ребусы»

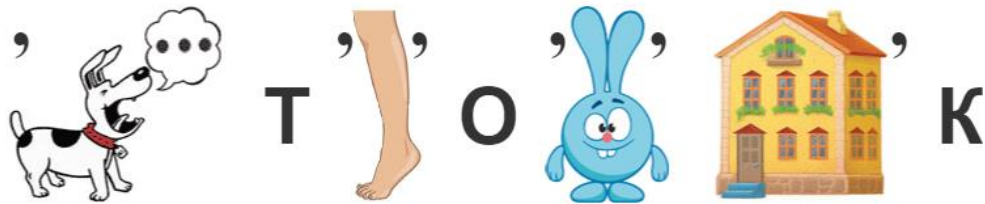
Вопрос № 4



Ответ: Велосипед

# «Ребусы»

Вопрос № 5



Ответ: Автогородок

# «Ребусы»

Вопрос № 6



~~5~~ КРЕ



~~4~~ К

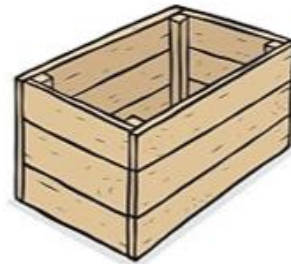
Ответ: Перекресток

# «Ребусы»

Вопрос № 7



ПА = Г



1 = ОВ

Ответ: Регулировщик

# «Ребусы»

Вопрос № 8



Д+Т



Ответ: Воитель



**Раунг №3**

**«Дорожные  
знаки»**

# «Дорожные знаки»

Вопрос № 1

Соотнеси название дорожного знака с его изображением:

- А) Пересечение равнозначных дорог
- Б) Железнодорожный переезд со шлагбаумом
- В) Крутой спуск
- Г) Искусственная неровность
- Д) Дикие животные
- Е) Боковой ветер



1)




4)



2)



5)



3)



6)



# «Дорожные знаки»

Вопрос № 2

Соотнеси название дорожного знака с его изображением:

- А) Уступите дорогу
- Б) Примыкание второстепенной дороги
- В) Главная дорога
- Г) Конец главной дороги
- Д) Пересечение равнозначных дорог
- Е) Движение без остановки запрещено



1)



2)



3)



4)



5)



6)



# «Дорожные знаки»

Вопрос № 3

Соотнеси название дорожного знака с его изображением:

- А) Разворот запрещен
- Б) Ограничение высоты
- В) Поворот налево запрещен
- Г) Стоянка запрещена по нечетным числам месяца
- Д) Стоянка запрещена по четным числам месяца
- Е) Ограничение ширины



1)



4)



2)



5)



3)



6)





# «Дорожные знаки»

Вопрос № 4

Соотнеси название дорожного знака с его изображением:

- А) Пешеходная дорожка
- Б) объезд препятствия справа
- В) Движение направо
- Г) объезд препятствия слева
- Д) Движение прямо или направо
- Е) Ограничение минимальной скорости



# «Дорожные знаки»

Вопрос № 5

Соотнеси название дорожного знака с его изображением:


- А) Пешеходный переход
- Б) Выезд на дорогу с реверсивным движением
- В) Дорога с односторонним движением
- Г) Реверсивное движение
- Д) Автомагистраль
- Е) Конец полосы




1)



2)



3)




4)



5)



6)



**30**

**Сдаем бланки**



**Время ответов**

# «Дорожные знаки»

## Вопрос № 1

Соотнеси название дорожного знака с его изображением:

- А) Пересечение равнозначных дорог
- Б) Железнодорожный переезд со шлагбаумом
- В) Крутой спуск
- Г) Искусственная неровность
- Д) Дикие животные
- Е) Боковой ветер

1)




4)



2)



5)



3)



6)



Ответ:

А-4, Б-5, В-6, Г-1, Д-3, Е-2

# «Дорожные знаки»

Вопрос № 2

Соотнеси название дорожного знака с его изображением:

- А) Уступите дорогу
- Б) Примыкание второстепенной дороги
- В) Главная дорога
- Г) Конец главной дороги
- Д) Пересечение равнозначных дорог
- Е) Движение без остановки запрещено

1)



4)



2)



5)



3)



6)



Ответ:

А-5, Б-4, В-1, Г-6, Д-2, Е-3

# «Дорожные знаки»

Вопрос № 3

Соотнеси название дорожного знака с его изображением:

- А) Разворот запрещен
- Б) Ограничение высоты
- В) Поворот налево запрещен
- Г) Стоянка запрещена по нечетным числам месяца
- Д) Стоянка запрещена по четным числам месяца
- Е) Ограничение ширины



Ответ:





А-6, Б-4, В-3, Г-1, Д-2, Е-5

# «Дорожные знаки»

Вопрос № 4

Соотнеси название дорожного знака с его изображением:

- А) Пешеходная дорожка
- Б) объезд препятствия справа
- В) Движение направо
- Г) объезд препятствия слева
- Д) Движение прямо или направо
- Е) Ограничение минимальной скорости



Ответ:

А-6, Б-3, В-1, Г-4, Д-2, Е-5

# «Дорожные знаки»

Вопрос № 5

Соотнеси название дорожного знака с его изображением:

- А) Пешеходный переход
- Б) Выезд на дорогу с реверсивным движением
- В) Дорога с односторонним движением
- Г) Реверсивное движение
- Д) Автомагистраль
- Е) Конец полосы


1)



4)




2)




5)



3)



6)



Ответ:

А-5, Б-3, В-6, Г-2, Д-1, Е-4

**Раунд №4**

**«Блиц-тур»**

# «Блиц-тур»

Вопрос № 1



или





# «Блиц-тур»

Вопрос № 2



или



# «Блиц-тур»

Вопрос № 3



или



# «Блиц-тур»

Вопрос № 4



ИЛИ



# «Блиц-тур»

Вопрос № 5



или



# «Блиц-тур»

Вопрос № 6



или



# «Блиц-тур»

Вопрос № 7




или




# «Блиц-тур»

Вопрос № 8



или



# «Блиц-тур»

Вопрос № 9



или





# «Блиц-тур»

Вопрос № 10



или



**30**

**Сдаем бланки**

**Время ответов**

# «Блиц-тур»

Вопрос № 1



или



# «Блиц-тур»

Вопрос № 2



или



# «Блиц-тур»

Вопрос № 3



или



# «Блиц-тур»

Вопрос № 4



ИЛИ





# «Блиц-тур»

Вопрос № 5



или



# «Блиц-тур»

Вопрос № 6



или



# «Блиц-тур»

Вопрос № 7




или




# «Блиц-тур»

Вопрос № 8



или



# «Блиц-тур»

Вопрос № 9



или



# «Блиц-тур»

Вопрос № 10



или



**Раунг №5**

**«Шазам»**

# «Шазам»

Вопрос № 1





# «Шазам»

Вопрос № 2



# «Шазам»

Вопрос № 3



# «Шазам»

Вопрос № 4



# «Шазам»

Вопрос № 5



# «Шазам»

Вопрос № 6



# «Шазам»

Вопрос № 7



# «Шазам»

Вопрос № 8



# «Шазам»

Вопрос № 9





# «Шазам»

Вопрос № 10



**Сдаем бланки**

**Время ответов**

# «Шазам»

Вопрос № 1

Ответ: «Мальчик на  
девятке» - DEAD  
BLONDE



# «Шазам»

Вопрос № 2

Ответ: «МАЛИНОВАЯ  
ЛАДА» - GAYAZOV\$  
BROTHERS\$



**«Шазам»**

Вопрос № 3

Ответ: «ASPHALT 8» -  
MACAN



# «Шазам»

Вопрос № 4

Ответ: «Маршрутка» -  
Iowa



# «Шазам»

Вопрос № 5

Ответ: «Баклажан» -  
Тимати





# «Шазам»

Вопрос № 6

Ответ: «Зеленоглазое  
такси» - Михаил  
Боярский



# «Шазам»

Вопрос № 7

Ответ: «Дикая ламба»  
- МІА ВОУКА



# «Шазам»

Вопрос № 8

Ответ: «Синий  
Lamborghini» - Rakhim



# «Шазам»

Вопрос № 9

Ответ: «Черный  
бумер» - Серега



# «Шазам»

Вопрос № 10

Ответ: «Camry 3.5» -  
UncleFlex



**30**

**Раунг №6**

**«Черный ящик»**

**+ ставки**

30

# «Черный ящик»

Вопрос № 1





30

# «Черный ящик»


Вопрос № 2



30

# «Черный ящик»

Вопрос № 3



30

# «Черный ящик»

Вопрос № 4



30

# «Черный ящик»


Вопрос № 5



30

# «Черный ящик»

Вопрос № 6



30

# «Черный ящик»

Вопрос № 7



30

# «Черный ящик»

Вопрос № 8



**Сдаем бланки**



**Время ответов**

# «Черный ящик»

Вопрос № 1



Ответ: дорожный знак  
«пешеходный переход»

# «Черный ящик»

Вопрос № 2



Ответ: мяч

# «Черный ящик»


Вопрос № 3



Ответ: дорожный  
знак «Стоп-линия»

# «Черный ящик»

Вопрос № 4



Ответ: светофор  
для пешеходов

# «Черный ящик»

Вопрос № 5



Ответ: дорожный знак  
«Осторожно, дети!»

# «Черный ящик»

Вопрос № 6



Ответ:  
автомобиль

# «Черный ящик»

Вопрос № 7



Ответ: дорожный знак «Место остановки автобуса и (или) троллейбуса»



# «Черный ящик»

Вопрос № 8

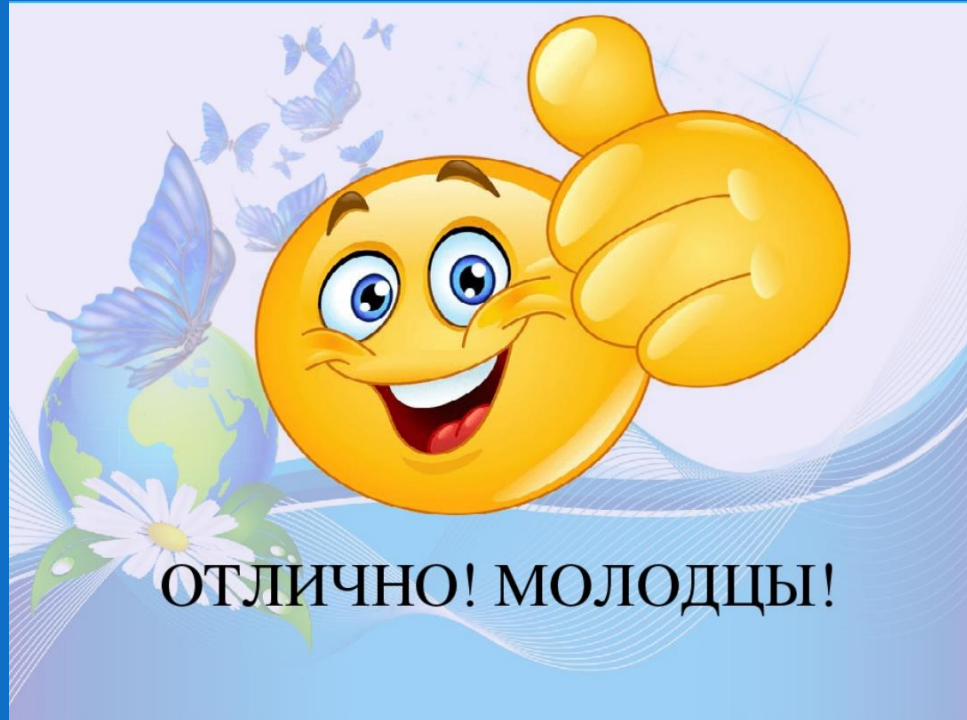


Ответ: подземный  
переход

**С помощью камеры на  
смартфоне, пройдите по  
QR-коду и подпишитесь  
на нашу группу**



# Спасибо!



**ОТЛИЧНО! МОЛОДЦЫ!**